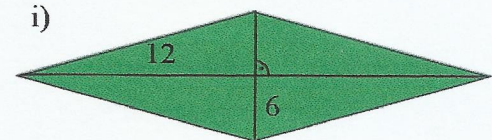
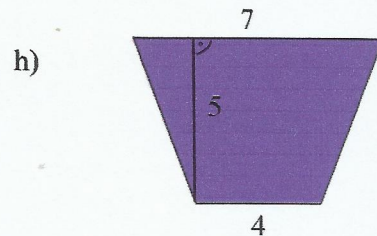
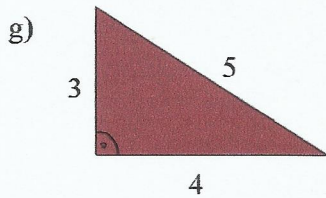
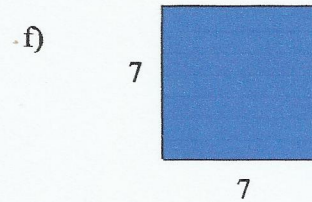
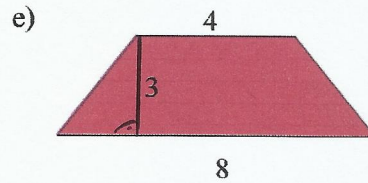

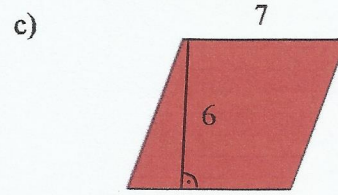
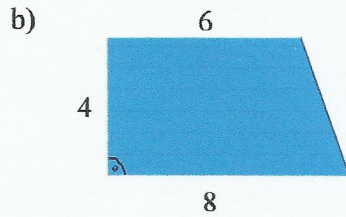
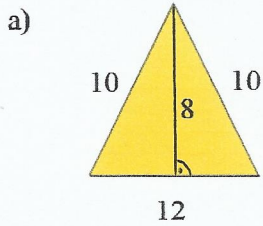


Imię i nazwisko:

zadanie 1

Oblicz pole narysowanych wielokątów:



a)  $P=$

b)  $P=$

c)  $P=$

d)  $P=$

e)  $P=$

f)  $P=$

g)  $P=$

h)  $P=$

i)  $P=$

zadanie 2

Przekątne rombu mają długość 24 cm i 10 cm a bok rombu jest równy 13 cm. Wyznacz wysokość tego rombu.

zadanie 3

Dany jest równoległobok, którego boki mają długość 10 cm i 4 cm. Wiedząc, że wysokość opuszczona na krótszy bok ma 8 cm wyznacz długość drugiej wysokości.